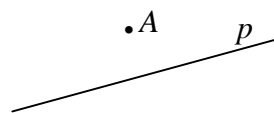
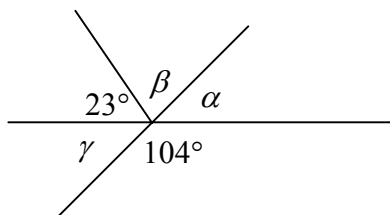

UVODNI ISPIT ZNANJA - A
6. RAZRED
ZADACI

1. Izračunaj na najjednostavniji način: $325 \cdot 87 - 253 \cdot 87$
2. Ispiši sve prirodne brojeve x za koje vrijedi
$$127 < x \leq 132$$
3. Riješi jednačbe: a) $2x - 325 = 425$
b) $x : 18 = 215$
4. Koji su od sljedećih brojeva djeljivi s 3: 4 281 , 291 542 , 835 810
5. Ispiši sve djeljitelje broja 18.
6. Odredi D (14, 84) i V (14, 84)
7. Zadana je točka A i pravac p . Odredi osmosimetričnu sliku točke A s obzirom na pravac p .



8. Izračunaj: $\frac{6}{19} + \frac{17}{19} - \frac{9}{19} =$
9. Razlomak $\frac{7}{13}$ napiši u obliku količnika.
10. Izračunaj: a) $31.85 + 21.06$
b) $3.445 : 0.53$
11. Koji je broj 3.2 puta veći od količnika brojeva 0.01 i 0.001.

12. Koliko stupnjeva, minuta i sekundi ima kut od 43.51° ?
13. Izračunaj koliko stupnjeva imaju kutevi α , β , γ .



14. Površina pravokutnika iznosi 134.2 cm^2 , a jedna stranica duga je 3.2 dm .
Izračunaj njegov opseg.
15. Josip ima 234 kn, Mirta ima dva puta više od Josipa, Vito tri puta manje od Josipa, a Tina šest puta manje od Mirte. Koliko novaca ima svaki, a koliko svi četvero zajedno?

**Ovaj test je jedan od testova iz naše zbirke:
ZBIRKA POTPUNO RIJEŠENIH TESTOVA ZA 6. RAZRED OSNOVNE ŠKOLE**

**Kompletna rješenja u obliku PDF dokumenta, u kojem su upute i sva objašnjenja
šaljemo mailom.**

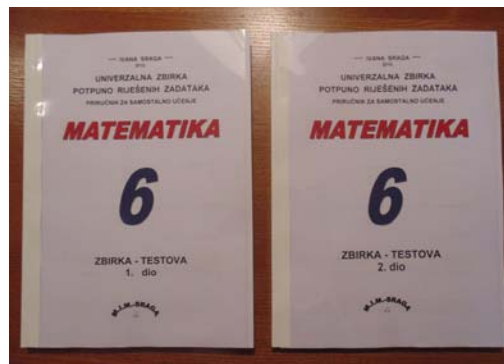

Dovoljno je poslati mail s porukom
da vam trebaju kompletna uputa i rješenja za inicijalni test Mat-6
Poruke šaljite na mail: mim-sraga@zg.htnet.hr



Iz naše ponude izdvajamo:

PRIRUČNIK za SAMOSTALNO UČENJE tj. pripremu za pismene ispite (testove)

ZBIRKA POTPUNO RIJEŠENIH TESTOVA ZA 6. RAZRED OSNOVNE ŠKOLE



S A D R Ž A J

I poglavlje	Uvodni testovi
II poglavlje	Operacije s razlomcima
III poglavlje	Kut i trokut
IV poglavlje	Cijeli brojevi
V poglavlje	Racionalni brojevi
VI poglavlje	Linearne jednadžbe s jednom nepoznanicom
VII poglavlje	Četverokut
VIII poglavlje	Završni testovi

Zbirka je sastavljena od niza testova koji prate školsko gradivo.

Svaka poglavlje obrađeno je u četiri testa.

U testovima zadatci su poredani postupno po složenosti, od najjednostavnijih do vrlo zahtjevnih.

Naveden je broj bodova te ocijene pridružene broju bodova. To omogućava svakom učeniku da sam provjeri svoje znanje.

Prvi dio zbirke sastoji se od samo zadanih zadataka, a u drugom dijelu su svi ti zadaci potpuno riješeni i objašnjeni.

Zbirka testova za 6 razred sastoji se od dvije knjige, koje se mogu kupiti zajedno (odjednom za cijelu godinu) ili odvojeno po polugodištima.

U prvoj knjizi nalaze se cjeline od I-IV poglavlja, a u drugoj od V-VIII.

Ovi testovi idealna su provjera stvarnog znanja Vašeg đaka.

Uz ovu zbirku na poklon dobivate plastificirane matematičke formule.

Želim Vam dobru zabavu

autor

PS

Sve što Vas zanima ili Vam nije jasno možete me nazvati ili pitati na e-mail mim-sraga@zg.htnet.hr

Iz naše ponude izdvajamo:

PRIRUČNIK za SAMOSTALNO UČENJE – KATALOG ZNANJA MATEMATIKA-6



Katalog znanja napisan je prema novom nastavnom programu, prati školsko gradivo bez obzira po kojoj zbirci učenik radi u školi. Katalog sadrži jednostavne i nešto složenije zadatke. Radi pomoći učenicima u učenju matematike, provjere postupka rješavanja zadataka i rezultata, u Katalogu su riješeni svi navedeni zadaci. Katalog je idealan priručnik za samostalno učenje.

U Katalogu znanja nalaze se iza svakog poglavlja **ispiti znanja** (testovi) vrlo slični onim testovima koje djeca pišu u školi. Ti testovi idealna su provjera stvarnog znanja Vašeg đaka.

Kupnjom ove zbirke dobijete našu garanciju na sve zadatke ... tj. možete u svako doba tražiti dodatne upute i objašnjenja preko maila ili telefonamail: mim-sraga@zg.htnet.hr

Telefon: 01-4578-431

cijena: **150 kn** -----

